

Всероссийская олимпиада школьников 2021-2022 учебный год
Школьный этап
ОБЖ
9 класс

МОДУЛЬ 1.

Задание 1.

Заполните до конца таблицу, указав в ней правильные ответы на поставленные вопросы.

№	Вопросы	Ответы
1.	Какие полки купе в вагоне пассажирского поезда считаются наименее опасными?	
2.	Какие вагоны в пассажирском поезде наиболее опасны для пассажиров при столкновении составов?	
3.	В каких случаях при пожаре в поезде запрещается использовать стоп-кран для остановки поезда?	






Задание 2.



Общество сталкивается со многими видами преступлений и антиобщественной деятельностью, совершаемыми несовершеннолетними. Определите их название и запишите ответы в таблицу.

Вид преступления или антиобщественной деятельности	Особенности преступления или антиобщественной деятельности (в соответствии с Уголовным кодексом РФ)
Хулиганство	
Вандализм	
Мошенничество	
Грабеж	
Воровство	

Задание 3. Перечислите правила, которые необходимо соблюдать, если вы оказались свидетелем или участником дорожно-транспортного происшествия.


Задание 4. Напишите правила поведения пассажира при возникновении пожара в общественном транспорте, основываясь на приведенных в таблице изображениях.

Задание 5.


Ручные механические часы (см. рис) показывают 16.00 и для определения сторон горизонта сориентированы по Солнцу.



1. Разъясните сущность способа определения сторон горизонта по Солнцу и часам.
2. Определите направление на север.

МОДУЛЬ 2.

№	Тестовые задания	Ответ
Определите один правильный ответ		
1	Обсервацией называют: а) эвакуацию людей из зоны землетрясения б) медицинские мероприятия при инфекционных заболеваниях в) обеззараживание (нейтрализацию) химических веществ	
2	Гиподинамия – это: а) физические нагрузки человека б) физические резервы организма в) недостаток движения	
3	Наводнения, вызванные большим сопротивлением водному потоку, возникающим при скоплении ледового материала в сужениях или	

	<p>излучинах реки во время ледохода – это:</p> <p>а) зажор б) затор в) половодье г) паводок</p>	
4	<p>Что обозначает изображенный знак?</p> <p>а) срок годности б) вторично переработанный материал в) бытовой отход г) нетоксичный материал</p>	
5	<p>В результате чрезвычайной ситуации пострадали 265 человека, а материальный ущерб составил 7,4 миллионов рублей. Дайте ей классификацию по тяжести последствий.</p> <p>а) муниципального характера б) регионального характера в) федерального характера г) межмуниципального характера</p>	
6	<p>С какой частотой выполняют давление руками на грудину пострадавшего при проведении сердечно-лёгочной реанимации?</p> <p>а) до 60 в минуту б) 60–70 в минуту в) 100–120 в минуту г) более 120 в минуту</p>	
7	<p>Что означает символ F, используемый в международной кодовой таблице сигналов бедствия?</p> <p>а) нужны медикаменты б) нужны оружие и боеприпасы в) нужны компас и карты г) нужны продовольствие и вода</p>	
8	<p>Определите, от каких нижеприведенных факторов зависит духовное здоровье?</p> <p>а) от двигательной активности человека, рационального питания, соблюдения правил личной гигиены и безопасного поведения в повседневной жизни, оптимального соотношения умственного и физического труда, умения отдыхать б) от условий жизни человека, его труда, отдыха, питания, жилья, а также уровня культуры, воспитания и образования в) от системы его мышления, отношения к окружающему миру и ориентации в этом мире</p>	
9	<p>С какой целью кладут ветки с листьями в выемку при добывании воды из грунта при помощи пленочного конденсатора</p> <p>а) для увеличения площади испарения б) чтобы не осыпались стенки выемки в) для охлаждения воды в емкости</p>	
10	<p>Периодический ветер, несущий большое количество влаги, дующий зимой с суши на океан, летом – с океана на сушу называется:</p> <p>а) муссон б) бриз в) сирокко г) бора</p>	

Определите все правильные ответы

11	<p>Укажите, по каким признакам классифицируются виды эвакуаций:</p> <ul style="list-style-type: none">а) по способам наблюденияб) по видам опасностейв) по способам эвакуацииг) по удаленностид) по номенклатурее) по стационарностиж) по стоимостиз) по длительности	
12	<p>Определите задачи в области гражданской обороны.</p> <ul style="list-style-type: none">а) санитарная обработка населения, обеззараживание зданий и сооружений, специальная обработка техники и территорийб) ликвидация чрезвычайных ситуацийв) борьба с пожарами, возникшими при военных конфликтах или вследствие этих конфликтовг) подготовка населения к действиям в чрезвычайных ситуацияхд) прогнозирование угрозы возникновения чрезвычайных ситуаций, оценка социально-экономических последствий чрезвычайных ситуаций	
13	<p>Умение управлять чувствами и эмоциями в конфликтной ситуации заключается в использовании корректных приемов и аргументов, и недопущении нелояльных. Из нижеперечисленных приемов, определите нелояльные в конфликтных ситуациях:</p> <ul style="list-style-type: none">а) умение вести ход конфликта по своему сценарию, то есть овладеть инициативойб) концентрация своих действий на главном или наиболее слабом звене позиции противникав) угроза или прямое применение морального или физического насилияг) обращение к публике с целью взволновать, наэлектризовать и привлечь на свою сторону окружающих, используя их зависимость, слабые стороны, религиозные или национальные предрассудки, или давая какие-либо обещанияд) используя «эффект внезапности», самые неожиданные и важные сведения и действия необходимо приберегать и применять их в решающих фазах конфликтае) обращение в поддержку своей позиции к взглядам тех людей, с кем противник в силу разных причин не смеет спорить	
14	<p>Какие ЧС относятся к техногенным?</p> <ul style="list-style-type: none">а) заборыб) магнитные бурив) прорывы плотинг) обрушение зданийд) экстремальные температуры	
15	<p>Какие из перечисленных растений являются опасными для человека?</p> <ul style="list-style-type: none">а) борщевикб) будра плющевиднаяв) клещевинаг) горицвет кукушкинд) гравилат городской	
16	<p>Во время возникновения урагана на улице наиболее безопасными естественными укрытиями будут:</p> <ul style="list-style-type: none">а) овраг	

	б) крупные камни в) ров г) большие деревья д) легкие деревянные постройки е) кювет дороги	
17	Среди перечисленных поражающих факторов выберите те, которые характерны для химических аварий с выбросом АХОВ: а) интенсивное излучение гамма-лучей, поражающее людей б) поражение людей опасными веществами через кожные покровы в) лучистый поток энергии г) проникновение опасных веществ через органы дыхания в организм человека д) выделение из облака зараженного воздуха частиц, вызывающих ожоги	
18	Из предложенных вариантов ответов выберите основные причины транспортных аварий: а) отсутствие разметки на дороге б) отсутствие светофора на перекрестке в) неправильное поведение пассажиров г) плохие погодные условия д) отсутствие регулировщика на нерегулируемом перекрестке	
19	Из ниже перечисленных объектов выберите те, которые могут являться линейными ориентирами: а) линии электропередач и дороги б) летящий самолет в) движущийся автотранспорт и сельскохозяйственная техника г) граница леса, просека	
20	Какие из перечисленных узлов предназначены для соединения веревок разного диаметра: а) прямой б) булинь в) шкотовый г) академический	